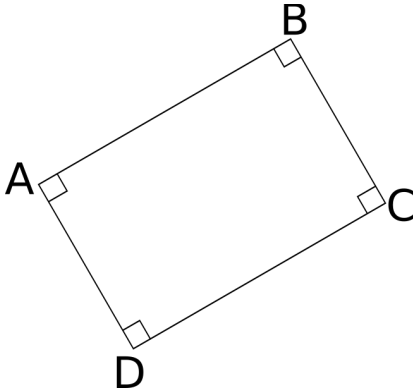
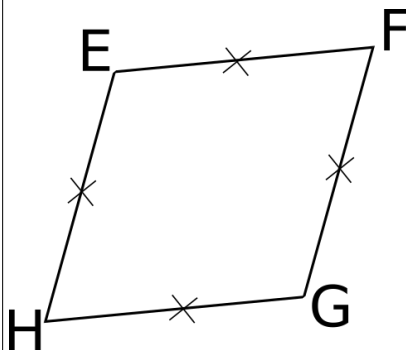
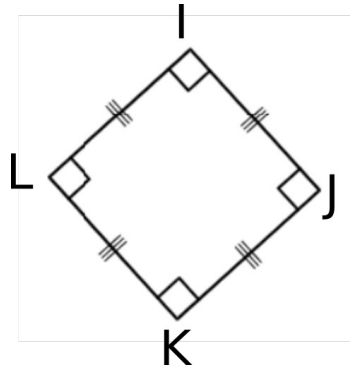
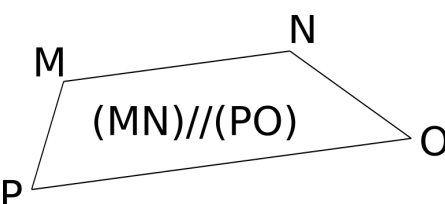
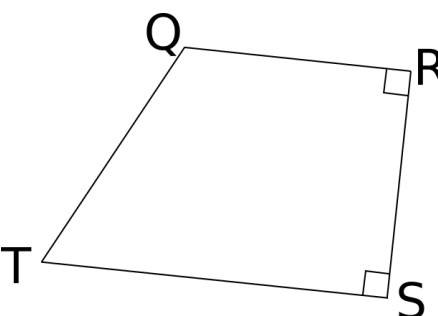
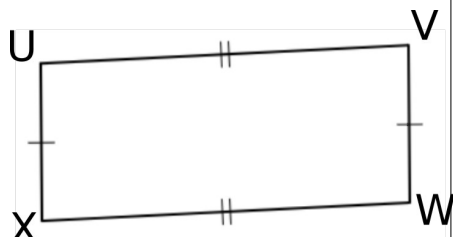


QUADRILATERES PARTICULIERS

CORRECTION

1) Donne la nature de chacun des quadrilatères ci-dessous :

| | | |
|---|---|--|
|  <p>rectangle</p> |  <p>losange</p> |  <p>carré</p> |
|  <p>trapèze</p> |  <p>Trapèze rectangle</p> |  <p>parallélogramme</p> |

2) Complète le tableau suivant par **oui** ou **non**

| | 4 angles droits | 4 côtés de même longueur | ses côtés opposés parallèles deux à deux | ses côtés opposés deux à deux de même longueur |
|--------------------------|-----------------|--------------------------|--|--|
| Un trapèze a ... | Non | Non | Non | Non |
| Un parallélogramme a ... | Non | Non | Oui | Oui |
| Un losange a ... | Non | Oui | Oui | Oui |
| Un rectangle a ... | Oui | Non | Oui | Oui |
| Un carré a ... | Oui | Oui | Oui | Oui |

3) Complète chaque phrase par **vrai** ou **faux**

Un carré est un rectangle : **Vrai**

Un losange est un rectangle : **Faux**

Un losange est un carré : **Faux**

Un carré est un losange : **Vrai**

Un trapèze est un rectangle : **Faux**

Un losange est un parallélogramme : **Vrai**