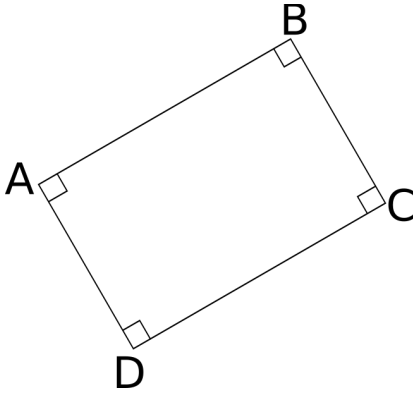
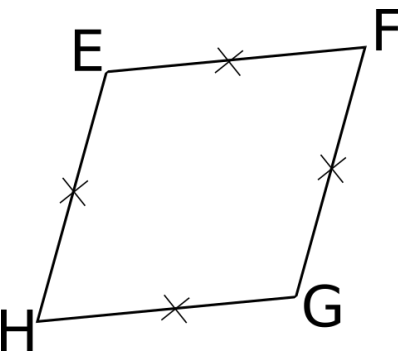
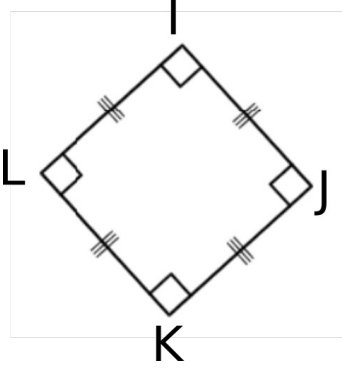
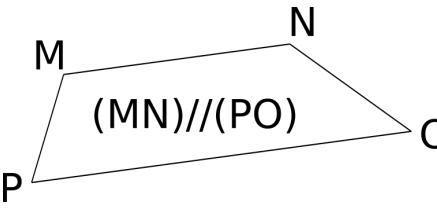
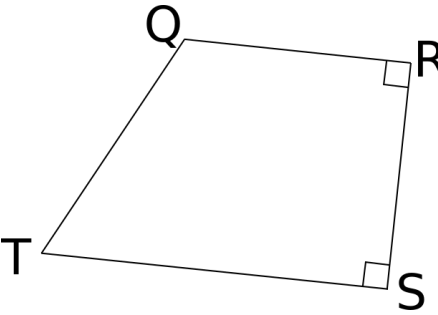
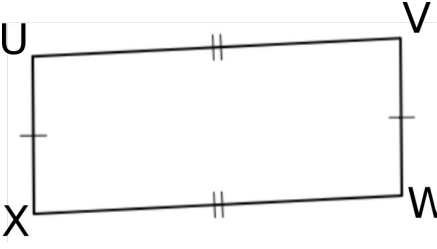


# QUADRILATERES PARTICULIERS

1) Donne la nature de chacun des quadrilatères ci-dessous :

 <p>.....</p>	 <p>.....</p>	 <p>.....</p>
 <p>.....</p>	 <p>.....</p>	 <p>.....</p>

2) Complète le tableau suivant par **oui** ou **non**

	4 angles droits	4 côtés de même longueur	ses côtés opposés parallèles deux à deux	ses côtés opposés deux à deux de même longueur
Un trapèze a ...				
Un parallélogramme a ...				
Un losange a ...				
Un rectangle a ...				
Un carré a ...				

3) Complète chaque phrase par **vrai** ou **faux**

Un carré est un rectangle : .....      Un losange est un rectangle : .....  
 Un losange est un carré : .....      Un carré est un losange : .....  
 Un trapèze est un rectangle : .....      Un losange est un parallélogramme : .....