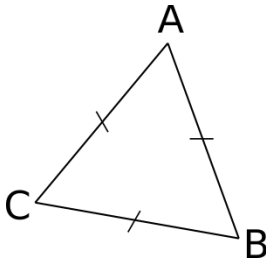
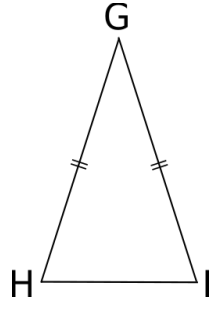
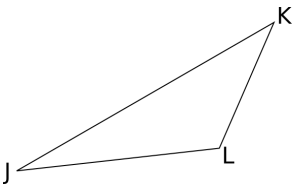
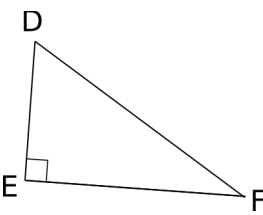
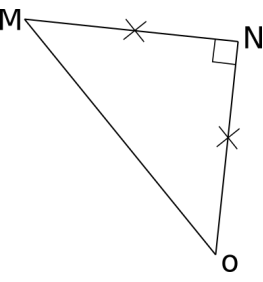


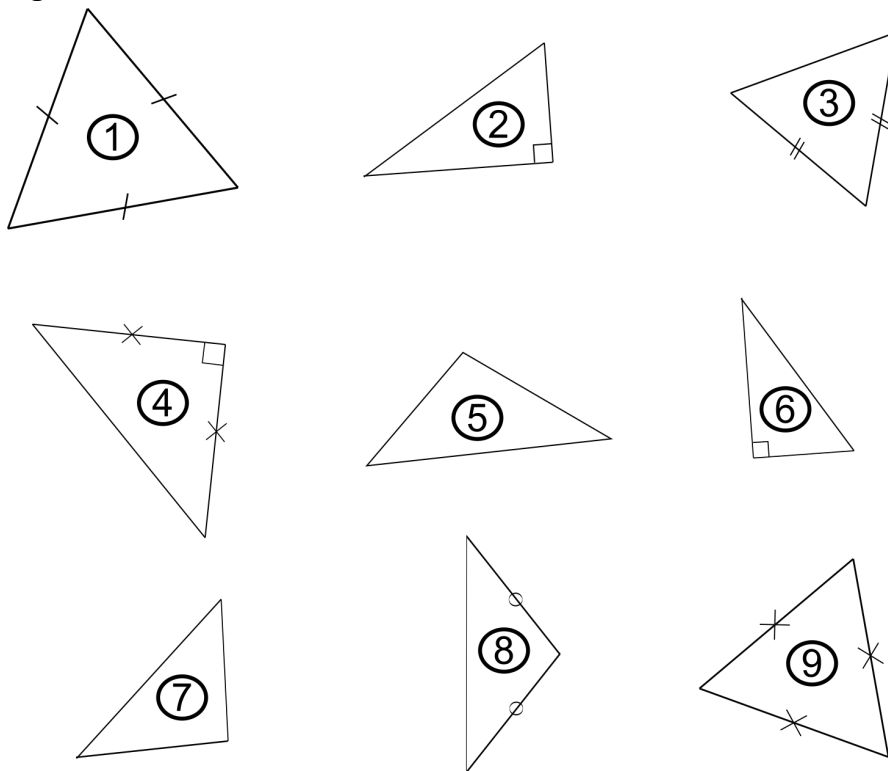
TRIANGLES PARTICULIERS

CORRECTION

1) Donne la nature de chacun des triangles ci-dessous :

| | | | | |
|---|---|--|--|---|
|  <p>équilateral</p> |  <p>isocèle</p> |  <p>quelconque</p> |  <p>rectangle</p> |  <p>isocèle rectangle</p> |
|---|---|--|--|---|

2) Classe les triangles suivants dans le tableau



| Quelconque | Isocèle | Equilatéral | Rectangle |
|--------------|------------------|--------------|------------------|
| 5 ; 7 | 3 ; 4 ; 8 | 1 ; 9 | 2 ; 4 ; 6 |

3) Complète les phrases suivantes :

a) ABC est un triangle **rectangle** en **A** .

Le segment [BC] est son **hypoténuse**

b) DEF est un triangle **isocèle** en **D** .

Le segment [EF] est sa **base**

