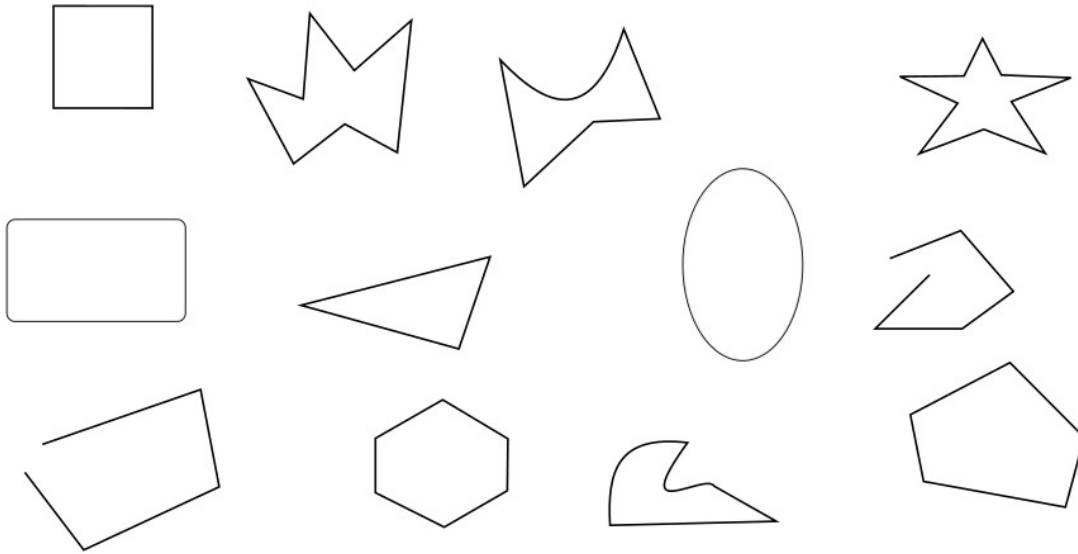


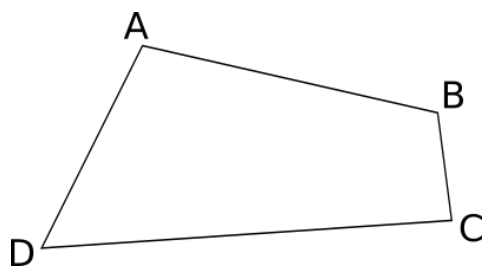
POLYGONES

1) Entoure les figures qui représentent un polygone.



2) Nommer un polygone

a) Donne tous les noms possibles pour désigner le quadrilatère ci-dessous :



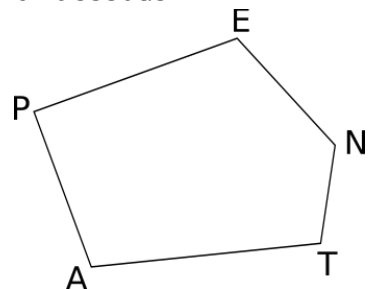
..... ;

..... ;

..... ;

..... ;

b) Entoure les noms qui désignent le pentagone ci-dessous :



PENTA ; PETAN ; PANTE ; PATNE

ETNAP ; ENTAP ; EPATN ; ETANP

NEPAT ; NATEP ; NTAEP ; NTAPE

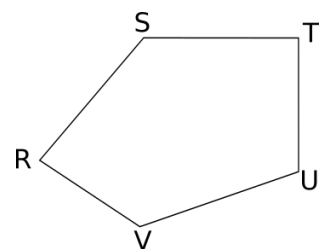
TANPE ; TNEPA ; TAPEN ; TAEPN

3) a) Nomme tous les côtés du polygone ci-contre :

.....

b) Nomme toutes les diagonales du polygone ci-contre :

.....



4) Un quadrilatère a pour diagonales [DE] et [HR].

Fais une figure à main levée puis nomme-le :